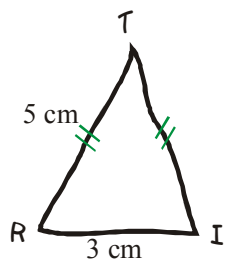
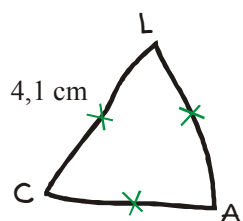


Exercice n°1

Trace en vraie grandeur les triangles TIR et LAC d'après leur dessin à main levée.

**Exercice n°2**

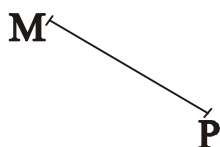
Pour chaque question, **trace d'abord le triangle à main levée**, puis construis-le en vraie grandeur.

1°) LOT est un triangle isocèle en O, tel que $LO = 4,2$ cm et $LT = 5,7$ cm.

2°) BAS est un triangle équilatéral tel que $AB = 3,7$ cm.

Exercice n°3

1°) Construis le triangle équilatéral MNP.



2°) Construis le triangle ABC isocèle en C tel que $AC = 4$ cm.

