

Exercice n°1

Complète les définitions suivantes :

1°) Un **triangle rectangle** est un qui a

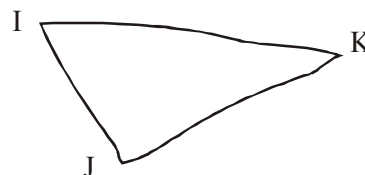
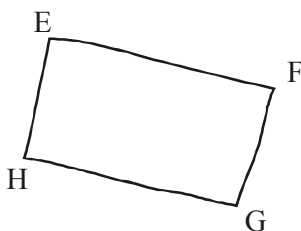
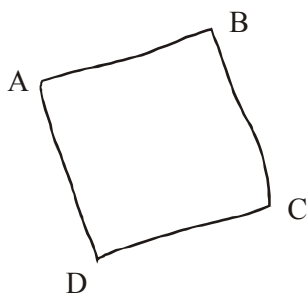
2°) Un **rectangle** est un qui a

3°) Un **carré** est qui a et

Exercice n°2

Les codes ont été oubliés sur les figures à main levée suivante ; ajoute-les sachant que :

- ABCD est un carré ;
- EFGH est un rectangle ;
- IJK est un triangle rectangle en J.



Exercice n°3

Dessine à **main levée** un carré RSTU, un rectangle MNOP et un triangle ABC rectangle en C.

Exercice n°4

1°) Tracer un carré ABFE de côté AB.

2°) Tracer un rectangle MNPR de longueur MN et de largeur 2,5 cm.

3°) Tracer un triangle TSU rectangle en T avec TS = 4,2 cm et TU = 3,5 cm

