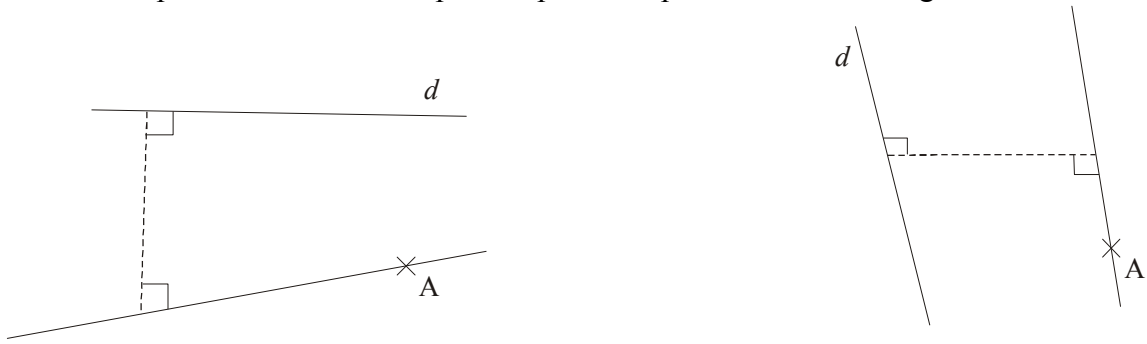


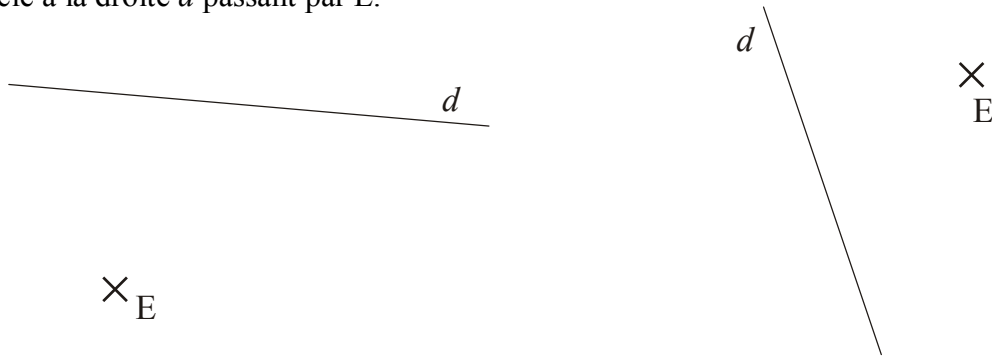
Exercice n°1

On a voulu tracer la parallèle à la droite d passant par A . Repère l'erreur et corrige-la.



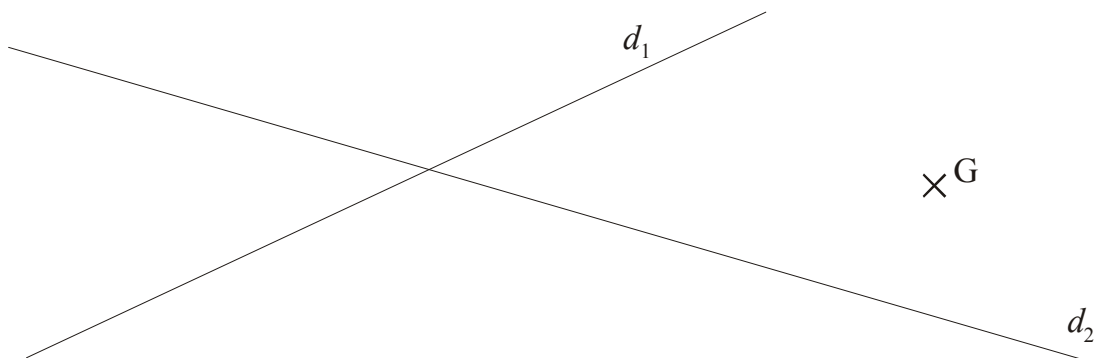
Exercice n°2

Trace la parallèle à la droite d passant par E .



Exercice n°3

Tracer en bleu la parallèle à d_1 passant par G et en rouge la parallèle à d_2 passant par G .



Exercice n°4

Trace en bleu la parallèle à (AB) passant par C .
Trace en vert la parallèle à (AC) passant par B .
Trace en rouge la parallèle à (CB) passant par A .

