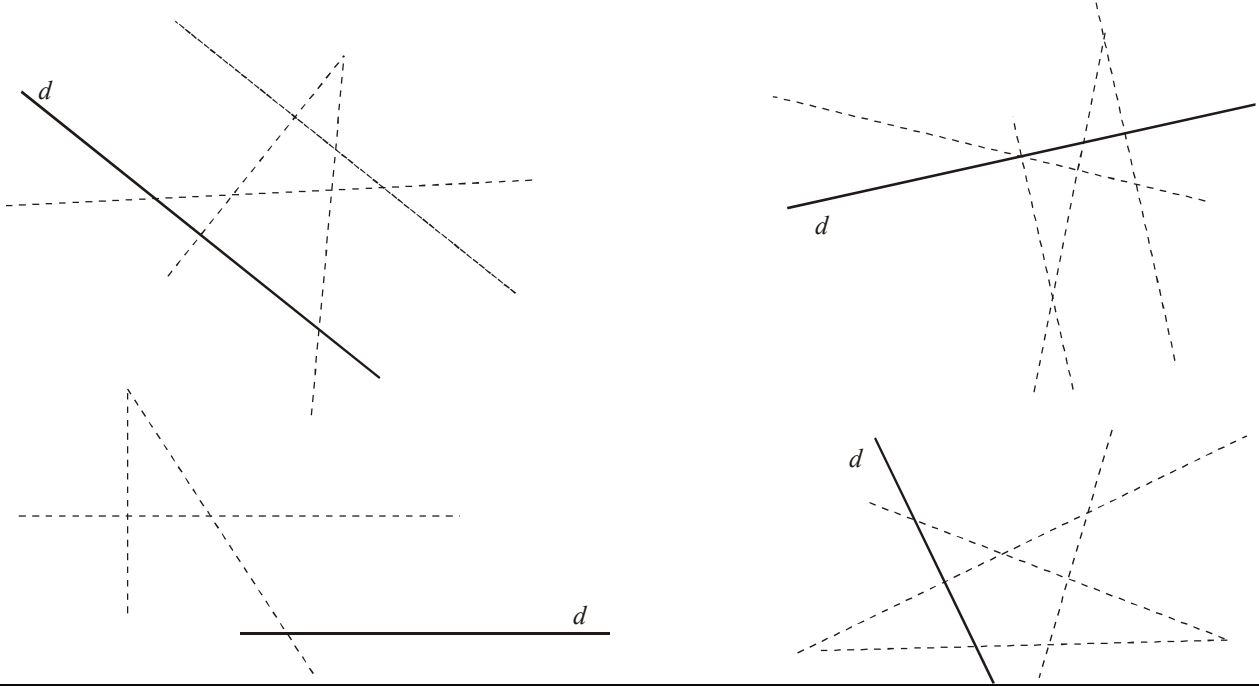


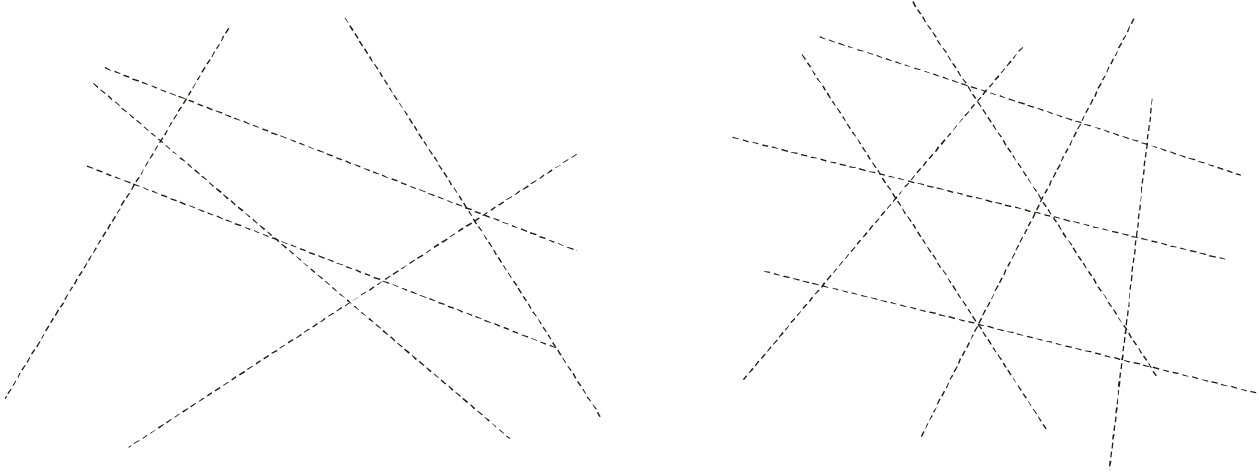
Exercice n°1

Sans utiliser l'équerre, trouve les droites perpendiculaires à la droite d , repasse-les en bleu puis code les figures.



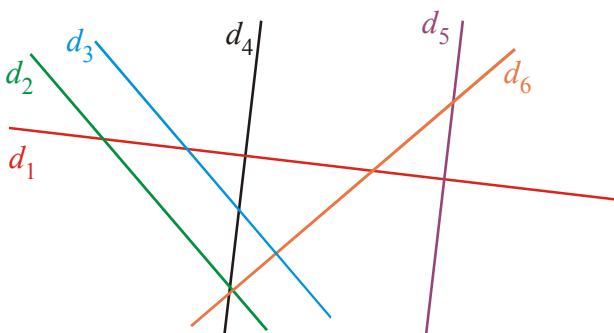
Exercice n°2

Repasse en bleu les droites qui semblent parallèles.



Exercice n°3

Complète avec le symbole \perp ou $//$ si les droites semblent perpendiculaires ou parallèles. N'écris rien si aucun symbole ne convient.



1°) $d_1 \dots\dots d_2$

2°) $d_1 \dots\dots d_4$

3°) $d_2 \dots\dots d_3$

4°) $d_2 \dots\dots d_6$

5°) $d_4 \dots\dots d_5$

6°) $d_6 \dots\dots d_3$