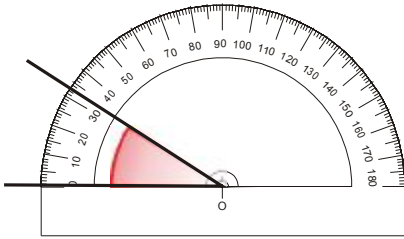
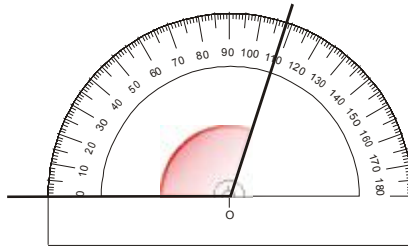


Exercice n°1

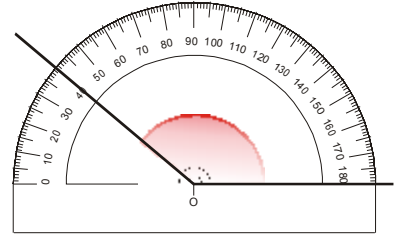
Dans chaque cas, écris sous les angles leur mesure en degré.



.....



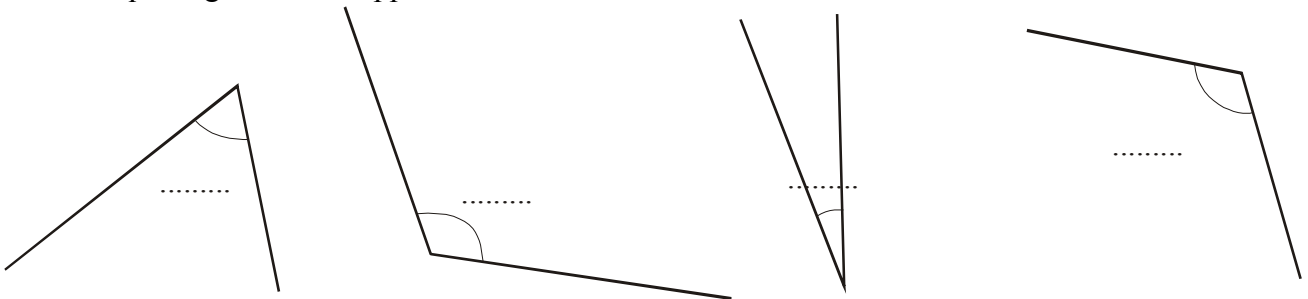
.....



.....

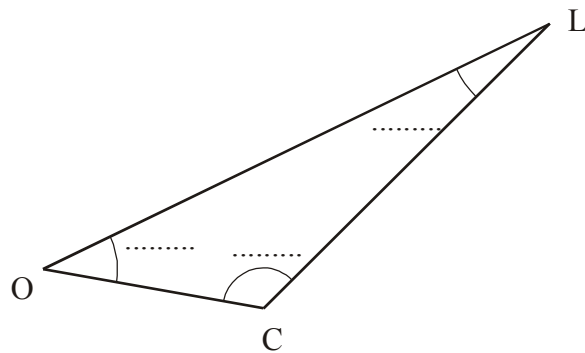
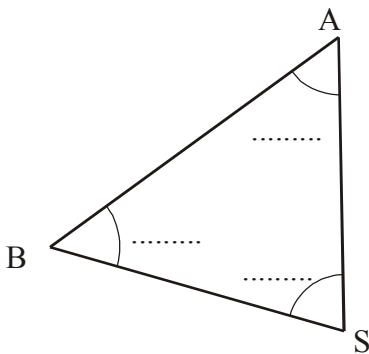
Exercice n°2

Mesure chaque angle avec le rapporteur.



Exercice n°3

Avec un rapporteur, mesure tous les angles de chaque triangle



Exercice n°4

Avec un rapporteur, mesure les angles et complète les pointillés :

$\widehat{TRU} = \dots\dots\dots$

$\widehat{SVT} = \dots\dots\dots$

$\widehat{UTV} = \dots\dots\dots$

$\widehat{TSU} = \dots\dots\dots$

