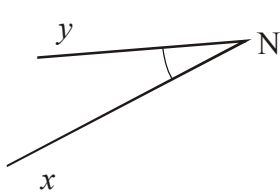
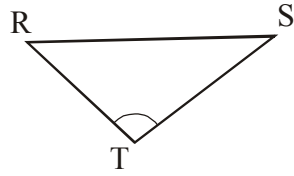


**Exercice n°1**

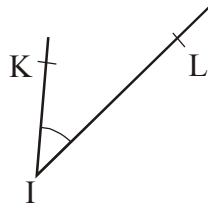
Nomme les angles marqués, en utilisant 3 lettres à chaque fois.



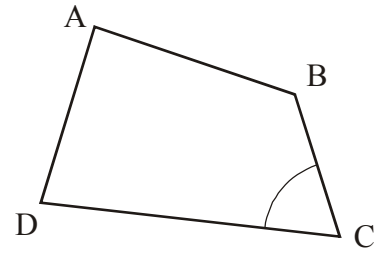
.....



.....



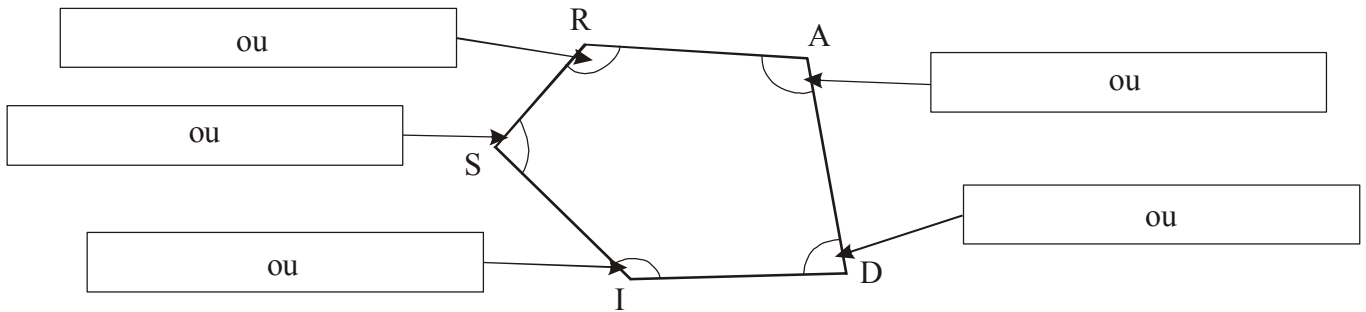
.....



.....

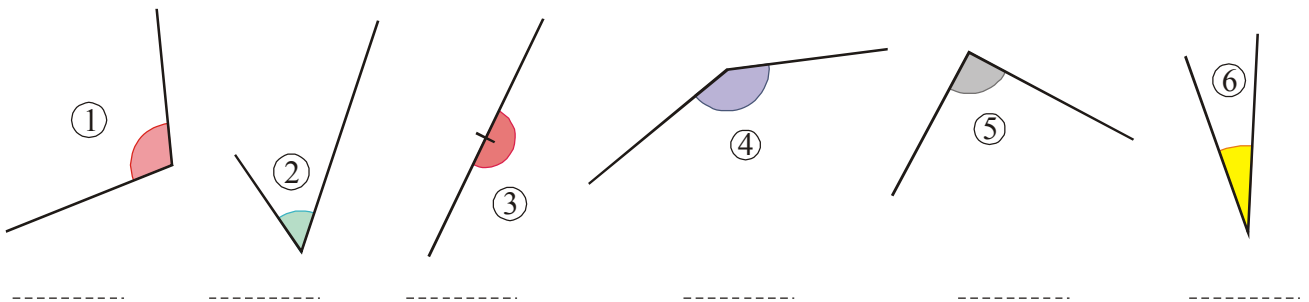
**Exercice n°2**

Écris dans chaque case les deux noms possibles de chacun des angles du polygone RADIS.



**Exercice n°3**

Retrouve à l'œil nu les angles aigus, obtus, droits et plats.



**Exercice n°4**

Retrouve à l'œil nu les angles aigus et obtus du quadrilatère PLAT.

Angles aigus :

.....

Angles obtus :

.....

